

Simulare pentru Examenul național de bacalaureat-Ianuarie 2026

Proba E. d) Geografie

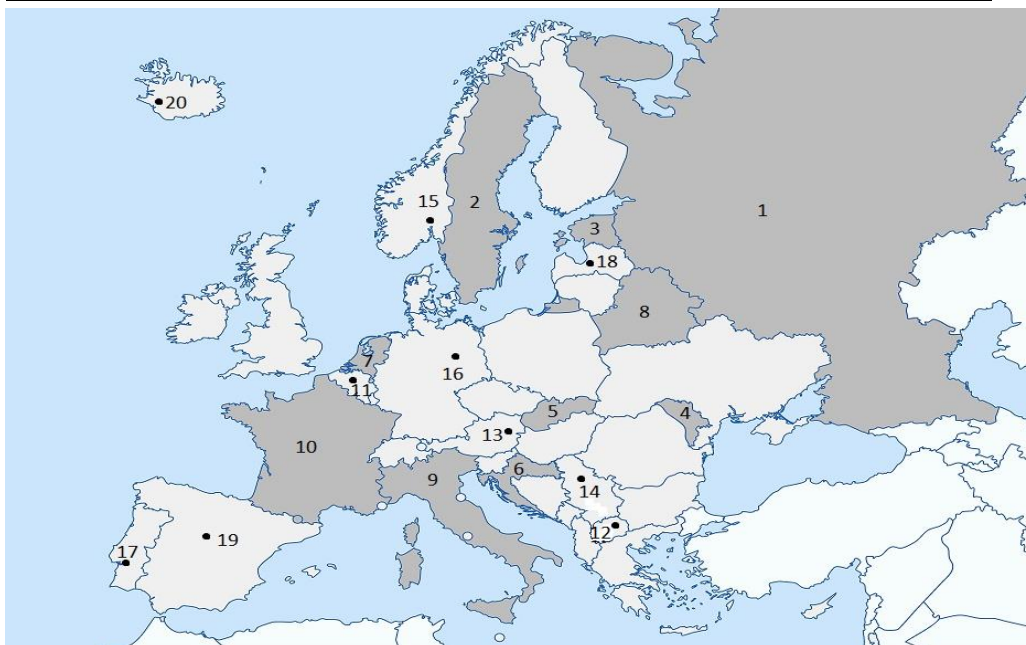
Varianta 2

Profilul umanist din filiera teoretică, profilul servicii din filiera tehnologică și toate profilurile și specializările din filiera vocațională, cu excepția profilului militar

- Toate subiectele sunt obligatorii. Se acordă zece puncte din oficiu.
- Timpul efectiv de lucru este de trei ore.

SUBIECTUL I

(30 PUNCTE)



Harta de mai sus se referă la subiectul I A-E. Pe hartă sunt marcate state cu numere de la 1 la 10 și orașe-capitală cu numere de la 11 la 20

A. Precizați:

1. numele statului marcat, pe hartă, cu **numărul 5**;
2. numele orașului-capitală marcat, pe hartă, cu **numărul 12**.

4 puncte

B. Scrieți, pe foaia de examen, răspunsurile corecte care completează afirmațiile de mai jos;

1. orașul-capitală marcat, pe hartă, cu **numărul 13** este traversat de fluviul numit ...
2. statul marcat, pe hartă, cu **numărul 3** se numește ...
3. statul marcat, pe hartă, cu **numărul 7**, se caracterizează prin climat

6 puncte

C. Scrieți, pe foaia de examen, doar litera (a,b,c sau d) corespunzătoare răspunsului corect pentru fiecare din afirmațiile de mai jos:

1. Orașul capitală Belgrad este marcat, pe hartă, cu numărul:

a. 14	b. 11	c. 13	d. 17
-------	-------	-------	-------
2. Insula Corsica aparține statului marcat, pe hartă, cu numărul:

a. 10	b. 9	c. 2	d. 3
-------	------	------	------
3. Climat subpolar întâlnim în statul a cărui capitală este marcata, pe hartă, cu numărul:

a. 18	b. 16	c. 15	d. 12
-------	-------	-------	-------

1

4. Statele marcate, pe hartă, cu numerele 4 și 8 nu au în comun:

a. râul Prut b. clima continentală c. vecinătatea Ucrainei; d. Platforma Est Europeană

5. Vulcani activi întâlnim în statul marcat, pe hartă, nu numărul:

a. 3 b. 5 c. 6 d. 9

10 puncte

D. Precizați trei deosebiri între clima statului marcat, pe hartă, cu **numărul 2** și clima statului marcat, pe hartă, cu **numărul 6**.

Nota 1: Deosebirile se pot referi la oricare dintre următoarele caracteristici: factori genetici, tip de climă, temperaturi medii anuale/vara/iarna, amplitudine termică, precipitații medii anuale/vara/iarna, vânturi cu frecvență ridicată, alte aspecte climatice.

Nota 2: Punctajul complet va fi acordat numai dacă deosebirile vor fi prezentate comparativ și nu separat.

Nota 3: Nu este necesară precizarea numelor statelor. Se poate face referire la statele respective cu numerele cu care sunt marcate pe hartă.

6 puncte

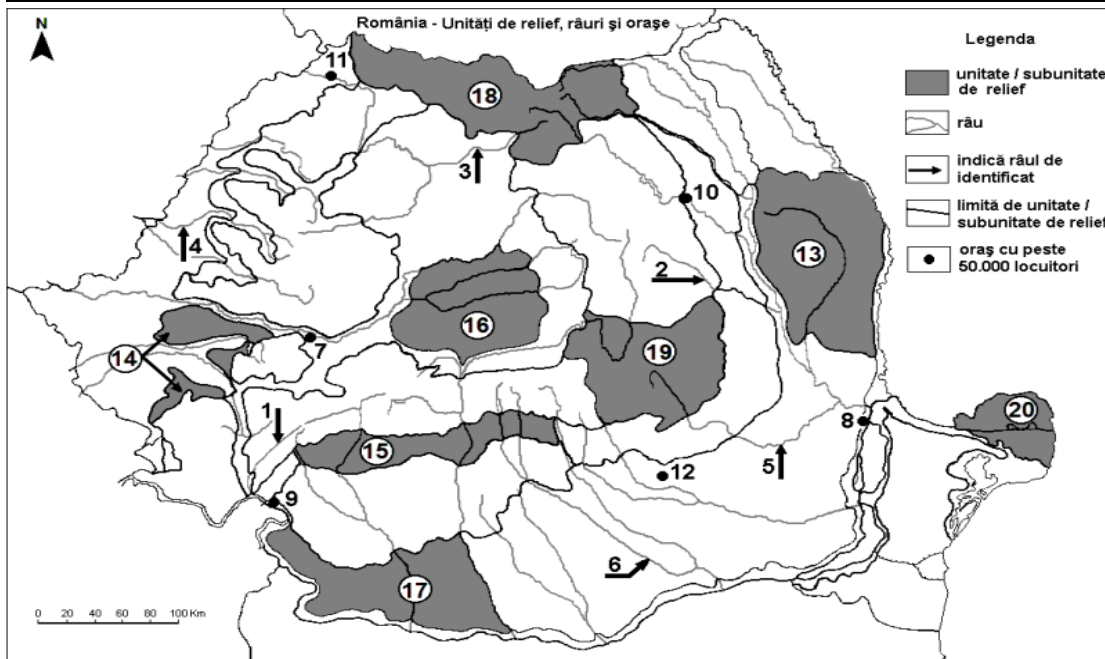
E 1. Prezentați un factor natural care influențează debitul fluviilor din Europa.

2. Precizați două fluvii din statul marcat pe hartă cu **numărul 10**.

4 puncte

SUBIECTUL II

30 PUNCTE



Harta de mai sus se referă la subiectul II A – D. Pe hartă sunt marcate **râuri cu numere de la 1 la 6**, **orașe cu numere de la 7 la 12** și **unități/subunități de relief cu numere de la 13 la 20**.

A. Precizați:

1. numele unității marcate, pe hartă, cu numărul 17;

2. numele râului marcat, pe hartă, cu numărul 4.

4 puncte

B. Scrieți, pe foaia de examen, răspunsurile corecte care completează afirmațiile de mai jos:

1. Râul marcat, pe hartă, cu numărul 3 se numește

2

2. Structurile boltite de tip „dom” sunt specifice unității de relief marcate, pe hartă, cu numărul ...

3. Depresiunea Brașov este localizată în unitatea marcată, pe hartă, cu numărul: ...

6 puncte

C. Scrieți, pe foaia de examen, **doar litera (a, b, c sau d)** corespunzătoare răspunsului corect pentru fiecare dintre afirmațiile de mai jos:

1. Reliefeolian, cu dune de nisip, s-a format în subunitatea de relief marcată, pe hartă, cu numărul:

a. 14 b. 15 c. 17 d. 18 **2 puncte**

2. În unitatea de relief marcată, pe hartă, cu numărul 20 pătrund influențe climatice:

a. continentale b. pontice c. scandinavo-baltice d. submediteraneene **2 puncte**

3. Unitatea de relief marcată, pe hartă, cu numărul 16 este străbătută de râul:

a. Crișul Repede b. Someșul Mic c. Strei d. Târnava Mare **2 puncte**

4. Este o diviziune a Podișului Moldovei subunitatea de relief marcată, pe hartă, cu numărul:

a. 13 b. 18 c. 19 d. 20 **2 puncte**

5. Limita sudică a Subcarpaților Moldovei o reprezintă râul marcat, pe hartă, cu număr:

a. 2 b. 3 c. 5 d. 6 **2 puncte**

D. Prezentați trei deosebiri între relieful subunității marcate, pe hartă, cu **numărul 13** și relieful subunității marcate, pe hartă, cu **numărul 18**.

Nota 1: Deosebirile se pot referi la oricare dintre următoarele aspecte ale reliefului: mod de formare, categorii/tipuri de roci pe care s-a format relieful, altitudini, gradul de fragmentare, trepte de relief, tipuri genetice de relief, orientarea culmilor și a văilor principale, dispunerea depresiunilor, alte aspecte specifice ale reliefului.

Nota 2: Punctajul complet va fi acordat numai dacă cele trei deosebiri vor fi prezentate comparativ și nu separat.

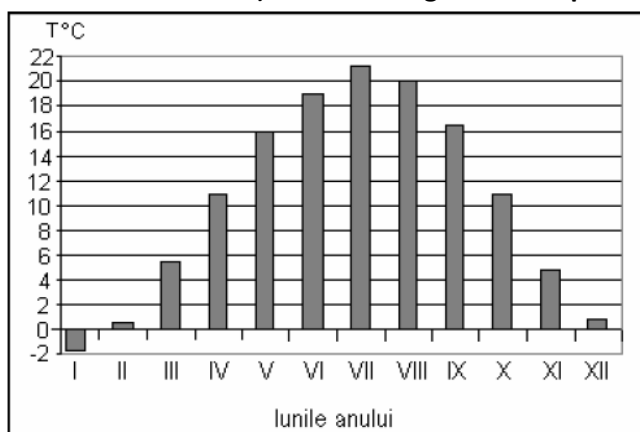
Nota 3: Nu este necesară precizarea numelor subunităților de relief, se poate face referire la subunitățile de relief respective cu numerele cu care sunt marcate pe hartă. **6 puncte**

E. 1. Precizați 2 cauze care a dus la formarea Deltei Dunării.

2. Precizați 2 factori care explică lipsa reliefului glaciatic în Munții Apuseni. **4 puncte**

SUBIECTUL al III-lea **30 puncte**

Reprezentarea grafică de mai jos se referă la subiectul III A-B și prezintă evoluția temperaturilor medii lunare la o stație meteorologică situată pe teritoriul Ungariei.



3

A. Precizați:

1. luna în care se înregistrează cea mai ridicată temperatură medie lunară și valoarea acesteia;
2. luna în care temperatura medie lunară este negativă și valoarea acesteia;
3. numărul lunilor în care temperatura medie lunară este mai mare de 10°C.

6 puncte

B. 1. Calculați amplitudinea termică anuală.

2. Precizați tipul de climă specific reprezentării grafice.

4 puncte

C. Pentru Ucraina, precizați:

1. două state vecine,
2. o mare și un golf la care are ieșire,
3. două unități de relief,
4. un tip de climă,
5. două fluvii,
6. capitala.

10 puncte

D. Tabelul de mai jos se referă la subiectul III-D și prezintă altitudinile maxime ale unor unități/subunități de relief din România:

Unitatea/subunitatea de relief	M-ții Măcin	M-ții Carpați	Câmpia Română	Podișul Moldovei
altitudinea	467 m	2544 m	300 m	688 m

Precizați:

1. Numele unității de relief formată în orogeneza alpină și numele vârfului cu cea mai mare altitudine,
2. Numele unității/subunității de relief formată în orogeneza hercinică și numele vârfului cu cea mai mare altitudine,
3. Numele unității de relief în care s-au amenajat iazuri și numele unui iaz.

6 puncte

E. 1. Precizați 2 țări traversate de fluviul Dunărea.

2. Explicați prezența ghețarilor montani în munții Alpi.

4 puncte